

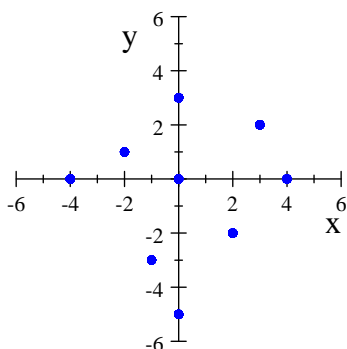
SEMINAR NR. 11, REZOLVĂRI
Algebră liniară și Geometrie analitică

9. DREAPTA ÎN PLAN, ÎN $\mathbb{R}^2/\mathbb{V}_2$

Coordonate în plan. Distanța dintre două puncte în plan- Recapitulare liceu.

Definiții pentru *coordoanate carteziene (abscisă, ordonată), axe, cadrane, simetricul unui punct față de $O/Ox/Oy$* - vezi Curs.

Observație. Fie $\mathcal{R} = (O, \vec{i}, \vec{j})$ un reper ortonormat în \mathbb{V}_2 . Se precizează legătura, prin reprezentare în plan, între $C = (\vec{i}, \vec{j})$ baza canonică, ortonormată, în $(\mathbb{V}_2, +, \cdot, \mathbb{R})$ și $C = (\mathbf{e}_1 = (1, 0), \mathbf{e}_2 = (0, 1))$ baza canonică, ortonormată, în $(\mathbb{R}^2, +, \cdot, \mathbb{R})$.



Pentru $M(x, y)$, x se numește *abscisă* și y *ordonată*.

S-au reprezentat punctele

$$M_1(3, 2), M_2(-2, 1), M_3(-1, -3), M_4(2, -2), M_5(4, 0), M_6(0, 3), M_7(-4, 0), M_8(0, -5).$$

$$M(x, y) \in \text{cadrantul } I \Leftrightarrow x > 0, y > 0 : M_1$$

$$M(x, y) \in \text{cadrantul } II \Leftrightarrow x < 0, y > 0 : M_2$$

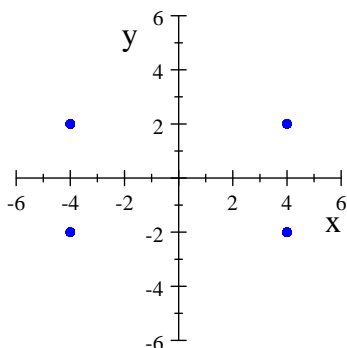
$$M(x, y) \in \text{cadrantul } III \Leftrightarrow x < 0, y < 0 : M_3$$

$$M(x, y) \in \text{cadrantul } IV \Leftrightarrow x > 0, y < 0 : M_4$$

$$M(x, y) \in \text{axa } Ox \Leftrightarrow y = 0 : M_5, M_7$$

$$M(x, y) \in \text{axa } Oy \Leftrightarrow x = 0 : M_6, M_8$$

$$M(x, y) \Rightarrow \begin{cases} N_1(-x, -y) \text{ este simetricul lui } M \text{ față de } O \\ N_2(-x, y) \text{ este simetricul lui } M \text{ față de } Oy \\ N_3(x, -y) \text{ este simetricul lui } M \text{ față de } Ox \end{cases}$$



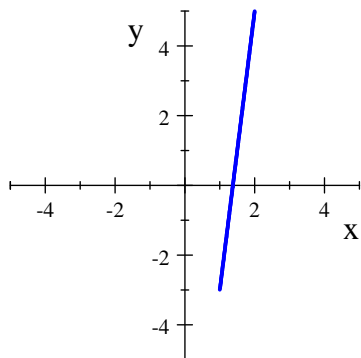
Definiție. Distanța dintre două puncte din plan $A(x_A, y_A)$ și $B(x_B, y_B)$ este numărul real pozitiv:

$$(1) \quad d(A, B) = AB = \sqrt{(x_B - x_A)^2 + (y_B - y_A)^2}.$$

Exercițiul 1. Să se calculeze distanța dintre punctele $(1, -3)$ și $(2, 5)$.

Rezolvare. Fie $A(1, -3)$ și $B(2, 5)$. Atunci

$$d(A, B) = AB = \sqrt{(2 - 1)^2 + (5 - (-3))^2} = \sqrt{65}.$$



Exercițiul 2. Să se determine abscisa punctului $P(x, 0)$ dacă $PQ = 5\sqrt{2}$, unde $Q(2, 5)$.

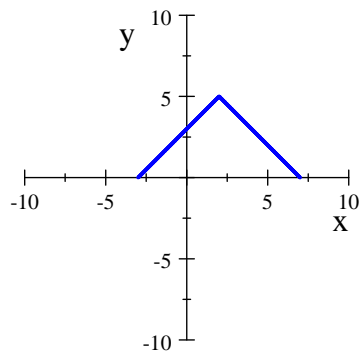
Rezolvare. Fie $P(x, 0)$ și $Q(2, 5)$. Atunci

$$d(P, Q) = PQ = \sqrt{(2 - x)^2 + (5 - 0)^2} = 5\sqrt{2} \Rightarrow$$

$$(2 - x)^2 + 25 = 50 \Rightarrow (2 - x)^2 = 25 \Rightarrow$$

$$|2 - x| = 5 \Rightarrow (x_1 = 7 \text{ sau } x_2 = -3).$$

Există două puncte cu proprietatea cerută, $P_1(7, 0)$ și $P_2(-3, 0)$.



Exercițiul 3. Să se determine abscisa și ordonata punctului $P(x, x)$ dacă $PQ = \sqrt{5}$, unde $Q(1, 4)$.

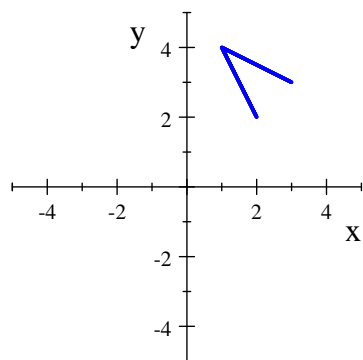
Rezolvare. Fie $P(x, x)$ și $Q(1, 4)$. Atunci

$$d(P, Q) = PQ = \sqrt{(1 - x)^2 + (4 - x)^2} = \sqrt{5} \Rightarrow$$

$$(1 - x)^2 + (4 - x)^2 = 5$$

$$2x^2 - 10x + 12 = 0 \Rightarrow (x_1 = 2 \text{ sau } x_2 = 3).$$

Există două puncte cu proprietatea cerută, $P_1(2, 2)$ și $P_2(3, 3)$.



Exercițiul 4. Să se stabilească dacă $A(1, 7)$, $B(0, 3)$, $C(-2, -5)$ sunt puncte coliniare.

Rezolvare. Se calculează:

$$d(A, B) = AB = \sqrt{(0 - 1)^2 + (3 - 7)^2} = \sqrt{17};$$

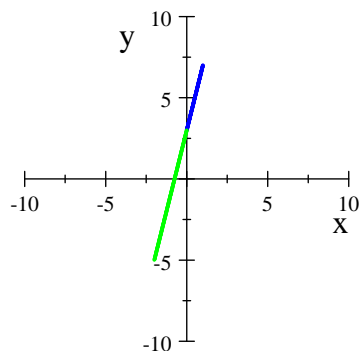
$$d(B, C) = BC = \sqrt{(-2 - 0)^2 + (-5 - 3)^2} = \sqrt{68};$$

$$d(C, A) = CA = \sqrt{(1 - (-2))^2 + (7 - (-5))^2} = \sqrt{153}.$$

Se verifică dacă $\sqrt{17} + \sqrt{68} = \sqrt{153}$. Într-adevăr

$$(\sqrt{17} + \sqrt{68})^2 = 17 + 2\sqrt{17} \cdot \sqrt{4 \cdot 17} + 68 = 153.$$

Deci $AB + BC = CA \Rightarrow A, B, C$ sunt coliniare în această ordine, cu B între A și C .



Exercițiul 5. Să se stabilească dacă $A(0, 2)$, $B(-2, 4)$, $C(1, 3)$ sunt vârfurile unui triunghi dreptunghic.

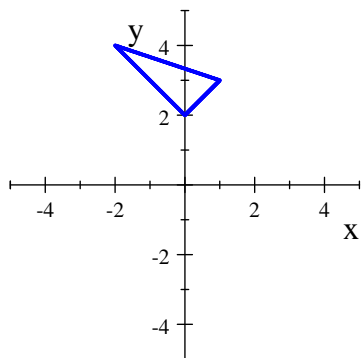
Rezolvare. Se calculează:

$$d(A, B) = AB = \sqrt{(-2 - 0)^2 + (4 - 2)^2} = 2\sqrt{2};$$

$$d(B, C) = BC = \sqrt{(1 - (-2))^2 + (3 - 4)^2} = \sqrt{10};$$

$$d(C, A) = CA = \sqrt{(0 - 1)^2 + (2 - 3)^2} = \sqrt{2}.$$

Se observă că $AB^2 + CA^2 = BC^2 \Rightarrow A, B, C$ sunt vârfurile unui triunghi dreptunghic în A .



Exercițiul 6. Să se demonstreze că $A(1, 1)$, $B(4, 1)$, $C(3, -2)$ și $D(0, -2)$ sunt vârfurile unui paralelogram.

Rezolvare. Se calculează:

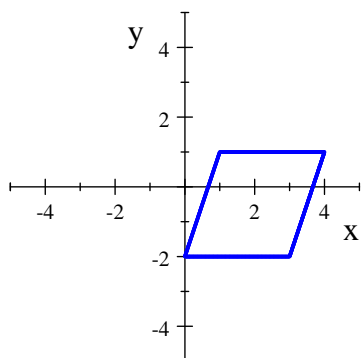
$$d(A, B) = AB = \sqrt{(4-1)^2 + (1-1)^2} = 3;$$

$$d(B, C) = BC = \sqrt{(3-4)^2 + (-2-1)^2} = \sqrt{10};$$

$$d(C, D) = CD = \sqrt{(0-3)^2 + (-2-(-2))^2} = 3;$$

$$d(D, A) = DA = \sqrt{(1-0)^2 + (1-(-2))^2} = \sqrt{10}.$$

Se observă că $AB = CD$ și $BC = AD \Rightarrow A, B, C, D$ sunt vârfurile unui paralelogram. Din calcule nu se obține ordinea (adică dacă $ABCD$ este patrulater convex). Se poate reprezenta grafic:



Exercițiul 7. Să se demonstreze că $A(1, 2)$, $B(4, 7)$, $C(-6, 13)$ și $D(-9, 8)$ sunt vârfurile unui dreptunghi.

Rezolvare. Se calculează:

$$d(A, B) = AB = \sqrt{(4-1)^2 + (7-2)^2} = \sqrt{34};$$

$$d(B, C) = BC = \sqrt{(-6-4)^2 + (13-7)^2} = 2\sqrt{34};$$

$$d(C, D) = CD = \sqrt{(-9-(-6))^2 + (8-13)^2} = \sqrt{34};$$

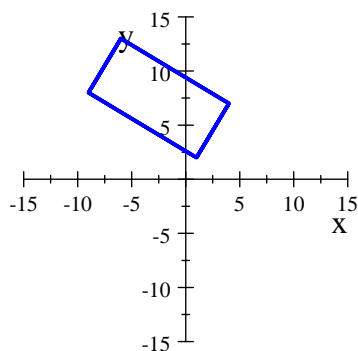
$$d(D, A) = DA = \sqrt{(1-(-9))^2 + (2-8)^2} = 2\sqrt{34}.$$

Se observă că $AB = CD$ și $BC = AD \Rightarrow A, B, C, D$ sunt vârfurile unui paralelogram. Mai mult,

$$d(B, D) = BD = \sqrt{(-9 - 4)^2 + (8 - 7)^2} = \sqrt{170} \text{ și}$$

$$AB^2 + AD^2 = BD^2 \Leftrightarrow \mu(\widehat{BAD}) = \frac{\pi}{2}.$$

Deci $ABCD$ este dreptunghi, în această ordine. Grafic:



Exercițiul 8. Să se demonstreze că $A(-2, 4)$, $B(2, 0)$, $C(2, 8)$ și $D(6, 4)$ sunt vârfurile unui pătrat.

Rezolvare. Se calculează:

$$d(A, B) = AB = \sqrt{(2 - (-2))^2 + (0 - 4)^2} = 4\sqrt{2};$$

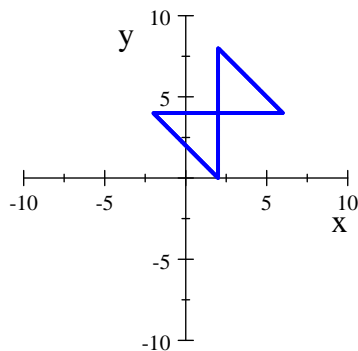
$$d(B, C) = BC = \sqrt{(2 - 2)^2 + (8 - 0)^2} = 8;$$

$$d(C, D) = CD = \sqrt{(6 - 2)^2 + (4 - 8)^2} = 4\sqrt{2};$$

$$d(D, A) = DA = \sqrt{(-2 - 6)^2 + (4 - 4)^2} = 8.$$

Se observă că $AB = CD$ și $BC = AD$, dar $AB \neq BC \Rightarrow A, B, C, D$ sunt vârfurile unui triunghi paralelogram, dar poate nu în această ordine.

Se poate reprezenta grafic:



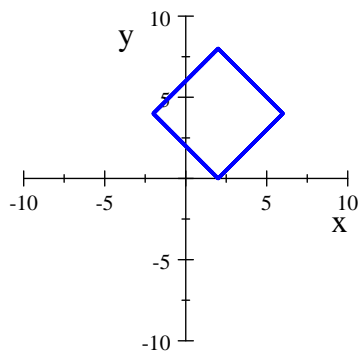
Sau se poate calcula:

$$d(B, D) = BD = \sqrt{(6 - 2)^2 + (4 - 0)^2} = 4\sqrt{2};$$

$$d(A, C) = AC = \sqrt{(2 - (-2))^2 + (8 - 4)^2} = 4\sqrt{2} \text{ și}$$

$$AB^2 + AC^2 = BC^2 \Leftrightarrow \mu(\widehat{BAC}) = \frac{\pi}{2}.$$

Deci $ABDC$ este dreptunghi, în această ordine.



Coordonatele unui punct care împarte un segment într-un raport dat în plan-Recapitulare liceu

Vezi Curs pentru formule și formulele coordonatelor mijlocului unui segment, formulele coordonatelor centrului de greutate a unei plăci triunghiulare.

Exercițiul 9. Să se determine coordonatele punctului C situat pe segmentul AB , $A(2, 5)$, $B(8, -1)$, la o treime distanță de A .

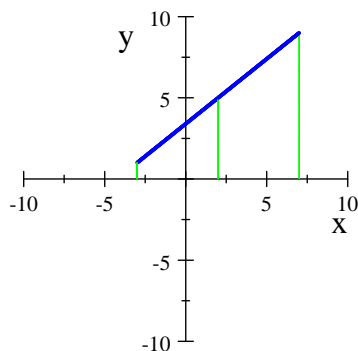
Exercițiul 10. Să se determine coordonatele punctului C situat pe dreapta AB , $A(-3, 1)$, $B(2, 5)$, astfel încât $2 = \frac{AC}{AB}$.

Rezolvare. Reprezentăm A, B în plan, $C(x, y)$ pe dreapta AB , apoi construim

$$M = pr_{Ox}A \Rightarrow M(-3, 0);$$

$$P = pr_{Ox}B \Rightarrow P(2, 0);$$

$$N = pr_{Ox}C \Rightarrow N(x, 0);$$



Atunci

$$2 = \frac{AC}{AB} = \frac{MN}{MP} = \frac{x - (-3)}{2 - (-3)} \Rightarrow x = -3 + 2 \cdot (2 - (-3)) = 7.$$

Analog

$$M' = pr_{Oy}A \Rightarrow M'(0, 1);$$

$$P' = pr_{Oy}B \Rightarrow P'(0, 5);$$

$$N' = pr_{Oy}C \Rightarrow N'(0, y);$$

$$2 = \frac{AC}{AB} = \frac{M'N'}{M'P'} = \frac{y - 1}{5 - 1} \Rightarrow y = 1 + 2 \cdot (5 - 1) = 9.$$

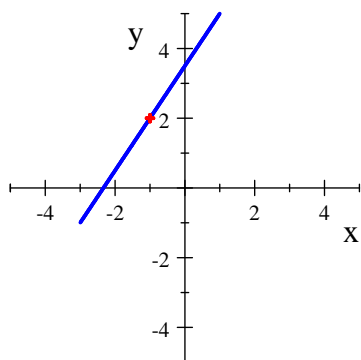
Exercițiul 11. Să se determine coordonatele punctului C situat pe segmentul AB , $A(2, -4)$, $B(8, -1)$, astfel încât $\frac{3}{5} = \frac{AC}{AB}$.

Exercițiul 12. Să se determine coordonatele punctului C situat pe segmentul AB , $A(-1, 5)$, $B(7, 1)$, astfel încât $3 = \frac{AC}{CB}$.

Exercițiul 13. Să se determine coordonatele punctului C , mijlocul segmentului AB , $A(1, 5)$, $B(-3, -1)$.

Rezolvare. Conform formulelor, pentru $r = \frac{1}{2}$, se obțin coordonatele mijlocului C pentru segmentul $AB \Rightarrow$

$$\begin{cases} x_C = \frac{x_A + x_B}{2}; \\ y_C = \frac{y_A + y_B}{2}. \end{cases} \Rightarrow \begin{cases} x_C = \frac{1 - 3}{2} = -1; \\ y_C = \frac{5 - 1}{2} = 2. \end{cases}$$

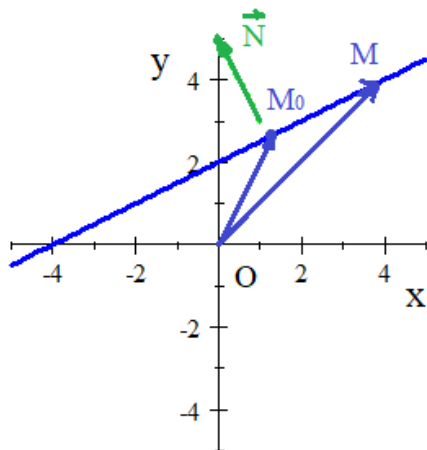


Ecuatii ale unei drepte în plan, în $\mathbb{R}^2/\mathbb{V}_2$ -Recapitulare liceu și Curs.

Fie $\mathcal{R} = (O, \vec{i}, \vec{j})$ un reper ortonormat în \mathbb{V}_2 .

Teorema 1. Un punct $M(\vec{r})$ aparține dreptei (d) ce conține punctul $M_0(\vec{r}_0)$ și este perpendiculară pe vectorul normal \vec{N} dacă și numai dacă

$$(2) \quad \langle \vec{N}, \vec{r} - \vec{r}_0 \rangle = 0.$$



Teorema 2. Un punct $M(x, y)$ aparține dreptei (d) ce conține punctul $M_0(x_0, y_0)$ și este perpen-

diculară pe vectorul normal $\vec{N} = A\vec{i} + B\vec{j}$ dacă și numai dacă

$$(3) \quad A(x - x_0) + B(y - y_0) = 0$$

sau, notând $C = -(Ax_0 + By_0)$, dacă și numai dacă

$$(4) \quad Ax + By + C = 0 \text{ - este o ecuație de gradul întâi în } x \text{ și } y, \text{ ce reprezintă } \textit{ecuația generală} \text{ a unei drepte } (d) \text{ în plan.}$$

Observație. Fie punctul $P(x_0, y_0)$ și dreapta $(d) Ax + By + C = 0$.

a) Dacă P nu aparține dreptei (d) , atunci distanța de la punctul P la dreapta (d) este numărul real strict pozitiv:

$$d(P, (d)) = \frac{|Ax_0 + By_0 + C|}{\sqrt{A^2 + B^2}}.$$

b) Dacă P aparține dreptei (d) , atunci $Ax_0 + By_0 + C = 0$ și distanța de la punctul P la dreapta (d) este:

$$d(P, (d)) = 0.$$

Teorema 3. a) Un punct $M(x, y)$ aparține dreptei (d) (oblică) ce are panta sau coeficientul unghiular $m = \operatorname{tg} \alpha$, $\alpha \in]0, \frac{\pi}{2}[\cup]\frac{\pi}{2}, \pi[$ și se intersectează cu axa Oy într-un punct de ordonată n dacă și numai dacă

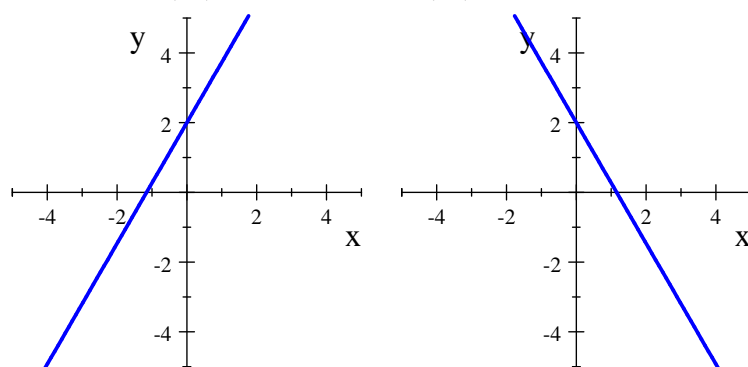
$$(5) \quad y = mx + n.$$

Observație.

$$\alpha \in]0, \frac{\pi}{2}[\Rightarrow m > 0.$$

$$\alpha \in]\frac{\pi}{2}, \pi[\Rightarrow m < 0.$$

De exemplu, $(d_1) y = \sqrt{3}x + 2$ și $(d_2) y = -\sqrt{3}x + 2$ au reprezentările:



Se observă că:

$$(d_1) \text{ are } m_1 = \operatorname{tg} \alpha_1 = \sqrt{3}, \alpha_1 = \frac{\pi}{3}, n_1 = 2, (d_1) \cap Oy = \{N_1\}, N_1(0, 2).$$

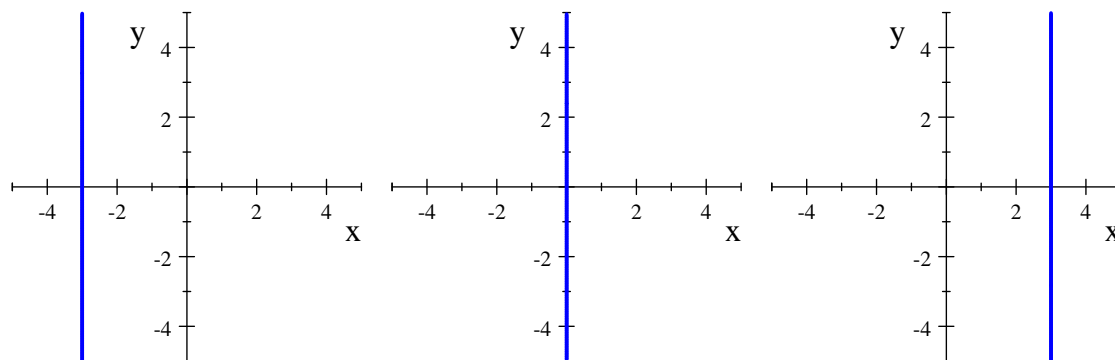
$$(d_2) \text{ are } m_2 = \operatorname{tg} \alpha_2 = -\sqrt{3}, \alpha_2 = \pi - \frac{\pi}{3} = \frac{2\pi}{3}, n_2 = 2, (d_2) \cap Oy = \{N_2\}, N_2(0, 2).$$

Teorema 3. b) Un punct $M(x, y)$ aparține dreptei (d) paralele cu Oy și se intersectează cu axa Ox într-un punct de abscisă a dacă și numai dacă

$$(6) \quad x = a. (y \in \mathbb{R}).$$

Observație. Pentru $x = a$, se poate conveni ca $m = \infty$ și $\alpha = \frac{\pi}{2}$.

De exemplu, $(d_1) x = -3, (d_2) x = 0$ și $(d_3) x = 3$ au reprezentările:



Se observă că:

$$(d_1) \text{ are } \alpha_1 = \frac{\pi}{2}, (d_1) \cap Oy = \emptyset, (d_1) \cap Ox = \{M_1\}, M_1(-3, 0).$$

$$(d_2) \text{ are } \alpha_2 = \frac{\pi}{2}, (d_2) \cap Oy = Oy, (d_2) \cap Ox = \{M_2\}, M_2(0, 0).$$

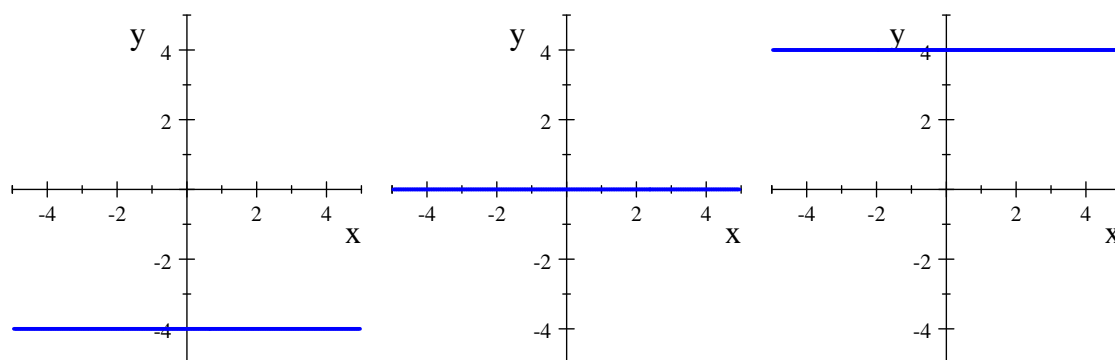
$$(d_3) \text{ are } \alpha_3 = \frac{\pi}{2}, (d_3) \cap Oy = \emptyset, (d_3) \cap Ox = \{M_3\}, M_3(3, 0).$$

Teorema 3. c) Un punct $M(x, y)$ aparține dreptei (d) paralele cu Ox și se intersectează cu axa Oy într-un punct de ordonată b dacă și numai dacă

$$(7) \quad y = b. (x \in \mathbb{R})$$

Observație. Pentru $y = b$, se poate conveni ca $m = 0$ și $\alpha = 0$.

De exemplu, $(d_1) y = -4$, $(d_2) y = 0$ și $(d_3) y = 4$ au reprezentările:



Se observă că:

$$(d_1) \text{ are } \alpha_1 = 0, (d_1) \cap Ox = \emptyset, (d_1) \cap Oy = \{N_1\}, N_1(0, -4).$$

$$(d_2) \text{ are } \alpha_2 = 0, (d_2) \cap Ox = Ox, (d_2) \cap Oy = \{N_2\}, N_2(0, 0).$$

$$(d_3) \text{ are } \alpha_3 = 0, (d_3) \cap Ox = \emptyset, (d_3) \cap Oy = \{N_3\}, N_3(0, 4).$$

Teorema 4. Fie două drepte de ecuații $(d_1) y = m_1x + n_1$ și $(d_2) y = m_2x + n_2$.

a) dreptele sunt paralele sau coincid dacă și numai dacă $m_1 = m_2$.

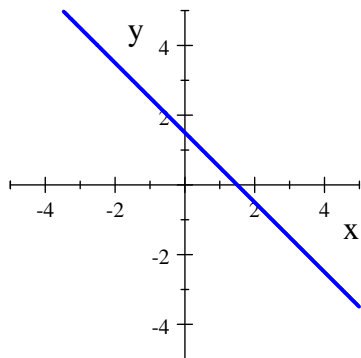
b) dreptele sunt perpendiculare dacă și numai dacă $m_1 \cdot m_2 = -1$.

Teorema 5. Un punct $M(x, y)$ aparține dreptei (d) ce are panta sau coeficientul unghiular $m = \operatorname{tg} \alpha$, $\alpha \in]0, \frac{\pi}{2}[\cup]\frac{\pi}{2}, \pi[$ și trece prin punctul $M_0(x_0, y_0)$

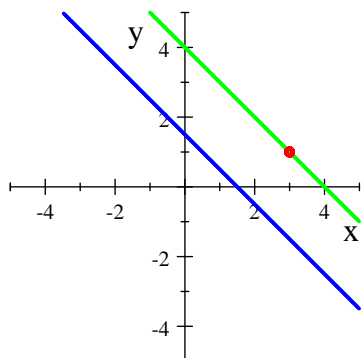
$$(8) \quad y - y_0 = m(x - x_0).$$

Observație. Fie dreapta $(d) 2x + 2y - 3 = 0$.

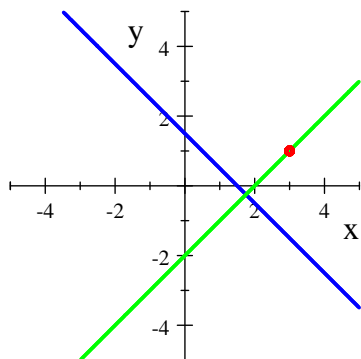
$$\text{Atunci } (d) 2x + 2y - 3 = 0 \Leftrightarrow (d) y = -x + \frac{3}{2} \Rightarrow m_d = -1 (\alpha = \pi - \frac{\pi}{4} = \frac{3\pi}{4})$$



Dreapta paralelă cu (d) , ce trece prin $M_0(3, 1)$ este cu $m_{d_1} = m_d = -1$ și
 $(d_1) y - 1 = -1 \cdot (x - 3)$

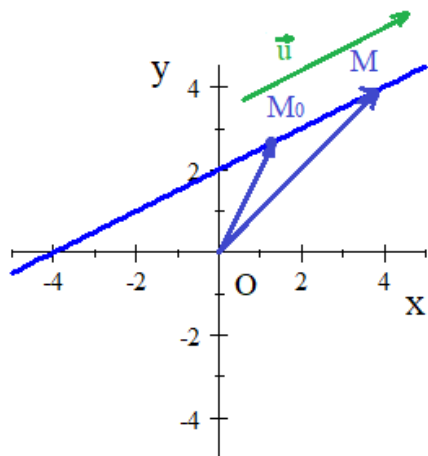


Dreapta perpendiculară pe (d) , ce trece prin $M_0(3, 1)$ este cu $m_{d_2} = \frac{-1}{m_d} = +1$ și
 $(d_2) y - 1 = +1 \cdot (x - 3)$



Teorema 6. Un punct $M(\vec{r})$ aparține dreptei (d) ce conține punctul $M_0(\vec{r}_0)$ și este paralelă cu vectorul director \vec{u} dacă și numai dacă

$$(9) \quad \vec{r} = \vec{r}_0 + \alpha \vec{u}, \alpha \in \mathbb{R}.$$



Teorema 7. Un punct $M(x, y)$ aparține dreptei (d) ce conține punctul $M_0(x_0, y_0)$ și este paralelă cu vectorul director $\vec{u} = m_1 \vec{i} + m_2 \vec{j}$ dacă și numai dacă

$$(10) \quad \begin{cases} x = x_0 + \alpha \cdot m_1 \\ y = y_0 + \alpha \cdot m_2 \end{cases}, \alpha \in \mathbb{R}.$$

Dacă $m_1 \neq 0, m_2 \neq 0$, atunci (10) \Leftrightarrow

$$(11) \quad \frac{y - y_0}{m_2} = \frac{x - x_0}{m_1}.$$

În acest caz, panta este $m = \frac{m_2}{m_1}$ și se regăsește (8).

Mai mult, direct (10) \Leftrightarrow

$$(12) \quad \begin{vmatrix} x - x_0 & y - y_0 \\ m_1 & m_2 \end{vmatrix} = 0.$$

Teorema 8. Un punct $M(\vec{r})$ aparține dreptei (d) ce conține punctele $M_1(\vec{r}_1), M_2(\vec{r}_2)$ distincte dacă și numai dacă

$$(13) \quad \vec{r} = \vec{r}_1 + \alpha(\vec{r}_2 - \vec{r}_1), \alpha \in \mathbb{R}.$$

Teorema 9. Un punct $M(x, y)$ aparține dreptei (d) ce conține punctele $M_1(x_1, y_1), M_2(x_2, y_2)$ distincte dacă și numai dacă

$$(14) \quad \begin{cases} x = x_1 + \alpha(x_2 - x_1) \\ y = y_1 + \alpha(y_2 - y_1) \end{cases}, \alpha \in \mathbb{R}.$$

Dacă $x_2 \neq x_1, y_2 \neq y_1$, atunci (14) \Leftrightarrow

$$(15) \quad \frac{y - y_1}{y_2 - y_1} = \frac{x - x_1}{x_2 - x_1}.$$

În acest caz, panta este $m = \frac{y_2 - y_1}{x_2 - x_1}$ și se regăsește (8).

Mai mult, direct (14) \Leftrightarrow

$$(16) \quad \begin{vmatrix} x - x_1 & y - y_1 \\ x_2 - x_1 & y_2 - y_1 \end{vmatrix} = 0 \Leftrightarrow$$

$$(17) \quad \begin{vmatrix} x & y & 1 \\ x_1 & y_1 & 1 \\ x_2 & y_2 & 1 \end{vmatrix} = 0.$$

Teorema 10. Un punct $M(x, y)$ aparține dreptei (d) ce taie axele de coordonate în $A(a, 0), B(0, b)$, cu $a \in \mathbb{R}^*, b \in \mathbb{R}^*$ dacă și numai dacă

$$(18) \quad \frac{x}{a} + \frac{y}{b} = 1.$$

Exercițiul 14. Să se deducă ecuația dreptei care trece prin punctele $P(1, 5)$, $Q(7, -7)$.

Exercițiul 15. Să se deseneze ecuația dreptei care trece prin punctul $C(2, 1)$ și are panta 1.

Exercițiul 16. Să se scrie ecuația dreptei cu $\alpha = \frac{\pi}{4}$ și are $n = 0$. Să se deseneze.

Exercițiul 17. Să se scrie ecuația dreptei cu $\alpha = \frac{-\pi}{4}$ și are $n = 0$. Să se deseneze.

Exercițiul 18. Să se scrie ecuația dreptei cu $\alpha = \frac{\pi}{4}$ și are $n = 1$. Să se deseneze.

Exercițiul 19. Să se determine pantele dreptelor (d_1) determinată de punctele $(1, 5)$, $(3, 8)$ și (d_2) determinată de punctele $(-4, 1)$, $(0, 7)$. Să se stabilească dacă dreptele sunt paralele, coincid sau sunt perpendiculare.

Exercițiul 20. Să se determine pantele dreptelor (d_1) determinată de punctele $(1, 3)$, $(3, 1)$ și (d_2) determinată de punctele $(1, -3)$, $(-1, -2)$. Să se stabilească dacă dreptele sunt paralele, coincid sau sunt perpendiculare.

Exercițiul 21. Dacă dreapta (d) determinată de punctele $(a, 5)$ și $(4, 3)$ este paralelă cu o dreaptă care are panta 3, să se determine a .

Exercițiul 22. Dacă dreapta (d) determinată de punctele $(a, 5)$ și $(4, 3)$ este perpendiculară pe o dreaptă care are panta 3, să se determine a .

Exercițiul 23. Să se determine a și b dacă dreapta care trece prin punctele $(a, 1)$ și $(0, b)$ coincide cu dreapta ce trece prin punctele $(1, 4)$ și $(2, -3)$.

Exercițiul 24. Să se determine a și b dacă dreapta care trece prin punctele $(a, 4)$ și $(3, 7)$ este paralelă cu dreapta ce trece prin punctele $(b, -1)$ și $(5, 1)$.

Exercițiul 25. Să se determine o relație între a și b dacă dreapta care trece prin punctele $(-2, 4)$ și $(1, b)$ este perpendiculară pe dreapta ce trece prin punctele $(-2, 4)$ și $(a, 2)$.

Exercițiul 26. Să se scrie ecuația dreptei care trece prin punctul $A(-2, 3)$ și are panta 2. Să se deseneze dreapta.

Exercițiul 27. Să se scrie ecuația dreptei care trece prin punctul $A(3, -2)$ și care este perpendiculară pe axa Ox . Să se deseneze dreapta.

Exercițiul 28. Să se scrie ecuațiile dreptelor: **a)** paralele, **b)** perpendiculare pe dreapta $3x + 2y - 5 = 0$ și care trec prin punctul de coordonate $(3, 1)$.

Exercițiul 29. Să se deseneze dreapta $2x - 3y - 6 = 0$.

Exercițiul 30. Să se scrie ecuația redusă a dreptei $3y - \sqrt{3}x + 6 = 0$, să se stabilească unghiul format de dreaptă cu axa Ox , să se deseneze dreapta.

Exercițiul 31. Care din punctele $(2, 3)$, $(-1, 5)$, $(6, 0)$, $(0, 4)$ se găsesc pe dreapta $3x + 4y - 18 = 0$?

Exercițiul 32. Să se stabilească dacă ecuațiile $5x - 7y + 8 = 0$ și $21y = 24 + 15x$ reprezintă aceeași dreaptă.

Exercițiul 33. Să se scrie expresia analitică a vectorului determinat de punctele $(3, -2)$ și $(-1, 5)$.

Exercițiul 37. Să se determine versorul corespunzător vectorului $\vec{a} = 3\vec{i} - \vec{j}$.

Exercițiul 38. Fie $\vec{a} = 3\vec{i} - 2\vec{j}$ și $\vec{b} = -\vec{i} + 5\vec{j}$. Să se calculeze $\vec{a} + \vec{b}$, $\vec{a} - \vec{b}$, $2\vec{a} - \vec{b}$, $\|\vec{a} - \vec{b}\|$, $\|\vec{a} + \vec{b}\|$ și să se reprezinte în plan vectorii reprezentanți ai vectorilor determinați având punctul inițial în $(1, 1)$.

Exercițiul 39. Să se determine coordonatele punctului A a vectorului $\vec{AB} \in \vec{a}$, dacă $\vec{a} = 4\vec{i} - 2\vec{j}$ și $B(-2, 1)$.

Exercițiul 40. Să se determine cosinusul unghiului dintre vectorii $\vec{a} = 3\vec{i} - \vec{j}$ și $\vec{b} = -\vec{i} + 5\vec{j}$.

Exercițiul 41. Dacă $\|\vec{u}\| = 10$, $\|\vec{v}\| = 6$, $\angle(\vec{u}, \vec{v}) = 60^\circ$, să se calculeze $\vec{u} \cdot \vec{v}$.

Exercițiul 42. Dacă $\vec{a} = \vec{i} + 2\vec{j}$ și $\vec{b} = x\vec{i} - \vec{j}$, $\angle(\vec{u}, \vec{v}) = 60^\circ$, să se determine x .

Exercițiul 43. Să se stabilească dacă vectorii $\vec{a} = 2\vec{i} - \vec{j}$ și $\vec{b} = \vec{i} + 2\vec{j}$ sunt ortogonali.

Exercițiul 44. Să se stabilească dacă vectorii $\vec{a} = \vec{i} - \vec{j}$ și $\vec{b} = 3\vec{i} + 2\vec{j}$ sunt ortogonali.

Exercițiul 45. Să se calculeze lungimea proiecției vectorului $\vec{a} = 3\vec{i} + 2\vec{j}$ pe $\vec{b} = 3\vec{i} + 4\vec{j}$. Să se deseneze reprezentanți ai celor doi vectori și vectorul proiecție $pr_{\vec{b}} \vec{a}$, $pr_{\vec{a}} \vec{b}$, toți aplicați în origine.

Exercițiul 46. Să se determine distanța de la punctul $(1, 4)$ la dreapta $3x - 5y + 2 = 0$.

Exercițiul 47. Pentru ce valori ale lui m dreapta $y - 1 = m(x + 3)$ este la distanță 3 de origine.

Exercițiul 48. Să se determine distanța dintre dreptele $2x - 5y - 10 = 0$ și $2x - 5y + 4 = 0$.

Exercițiul 49. Să se determine ecuația dreptei bisectoare a unghiului dintre dreptele $3x - 4y - 3 = 0$ și $5x + 12y + 1 = 0$.

Exercițiul 50. Să se scrie ecuația dreptei dacă se cunosc punctul $A(-1, 2)$ situat pe dreaptă și:

a) vectorul director $\vec{a} = 2\vec{i} - \vec{j}$;

b) punctul $B(2, 0)$ al dreptei;

c) vectorul normal $\vec{n} = \vec{i} + 6\vec{j}$;

d) panta $m = 5$.

Exercițiul 51. Să se determine punctul de intersecție al dreptelor $x - y - 2 = 0$ și $x + y - 6 = 0$.

Exercițiul 52. Să se scrie ecuația dreptei care trece prin punctul $A(3, -5)$ și are vectorul director $\vec{u} = 4\vec{i} + 5\vec{j}$.

Exercițiul 53. Să se afle coordonatele punctului C_1 simetric punctului $C(2, 4)$ fata de dreapta
(d) : $x - y - 2 = 0$.

Exercițiul 54. Să se scrie ecuația dreptei care trece prin punctul $A(2, 5)$ și este egal departată de punctele $B(-1, 2)$ și $C(5, 4)$.