

SEMINAR NR. 6, REZOLVĂRI  
Matematici Speciale, AIA

**3.3. Puncte ordinare și puncte singulare la distanță finită, respectiv infinită**

**Definiții** pentru noțiunile de *punct ordinar*, *punct singular*, *zero*, *pol*, *punct singular esențial*, *punct singular removabil* sau *eliminabil* sau *aparent pentru  $f$*  la distanță finită, respectiv infinită-vezi curs; cu "interpretări grafice" 4D (3D și culoare).

**Exercițiul 1.** Să se determine punctele ordinare, zerourile și punctele singulare la distanță finită (cu desen, ca în Curs) și natura lor pentru:

a)  $f : A \subseteq \mathbb{C} \rightarrow \mathbb{C}, f(z) = z^2 + 1$

**Rezolvare.**  $f$  este bine definită,  $\forall z \in \mathbb{C} \Rightarrow A = \mathbb{C}$ .

- Se observă că,  $\forall z_0 \in \mathbb{C}, \exists \rho > 0$  a.i.  $f \in \mathcal{H}(\Delta(z_0; \rho)) \Rightarrow \Rightarrow \forall z_0 \in \mathbb{C}$  este punct ordinar pentru  $f : \mathbb{C} \rightarrow \mathbb{C}$ .
- Zerourile lui  $f$  sunt:  $j$  (de ordin 1) și  $-j$  (de ordin 1).
- $f$  nu are puncte singulare pe  $\mathbb{C}$  (la distanță finită).

b)  $f : A \subseteq \mathbb{C} \rightarrow \mathbb{C}, f(z) = \frac{z^2 + 1}{z^2 + 4}$

**Rezolvare.**  $f$  este bine definită,  $\forall z \in \mathbb{C} \setminus \{2j, -2j\} \Rightarrow A = \mathbb{C} \setminus \{2j, -2j\}$ .

- Se observă că,  $\forall z_0 \in \mathbb{C} \setminus \{2j, -2j\}, \exists \rho > 0$  a.i.  $f \in \mathcal{H}(\Delta(z_0; \rho)) \Rightarrow \Rightarrow \forall z_0 \in \mathbb{C} \setminus \{2j, -2j\}$  este punct ordinar pentru  $f : \mathbb{C} \setminus \{2j, -2j\} \rightarrow \mathbb{C}$ .
- Zerourile lui  $f$  sunt:  $j$  (de ordin 1) și  $-j$  (de ordin 1).
- $f$  are puncte singulare pe  $\mathbb{C}$  (la distanță finită) :

$a = 2j$  este punct singular; mai mult, este pol de ordin 1, deoarece:

$$\text{-se scrie } f(z) = \frac{z^2+1}{z-2j} = \frac{\varphi_1(z)}{(z-2j)^1};$$

$$\text{-se observă că } \varphi_1(z) = \frac{z^2+1}{z+2j}, \forall z \in A \cup \{2j\};$$

$$\varphi_1 \text{ este olomorfă pe o vecinătate a lui } 2j; \varphi_1(2j) = \frac{(2j)^2+1}{2j+2j} \neq 0.$$

$a = -2j$  este punct singular; mai mult, este pol de ordin 1, deoarece:

$$\text{-se scrie } f(z) = \frac{z^2+1}{z+2j} = \frac{\varphi_2(z)}{(z+2j)^1};$$

$$\text{-se observă că } \varphi_2(z) = \frac{z^2+1}{z-2j}, \forall z \in A \cup \{-2j\};$$

$$\varphi_2 \text{ este olomorfă pe o vecinătate a lui } -2j; \varphi_2(-2j) = \frac{(-2j)^2+1}{-2j-2j} \neq 0.$$

c)  $f : A \subseteq \mathbb{C} \rightarrow \mathbb{C}, f(z) = \frac{z^2 + 1}{(z^2 + 9)^2}$

**Rezolvare.**  $f$  este bine definită,  $\forall z \in \mathbb{C} \setminus \{3j, -3j\} \Rightarrow A = \mathbb{C} \setminus \{3j, -3j\}$ .

- Se observă că,  $\forall z_0 \in \mathbb{C} \setminus \{3j, -3j\}, \exists \rho > 0$  a.i.  $f \in \mathcal{H}(\Delta(z_0; \rho)) \Rightarrow \Rightarrow \forall z_0 \in \mathbb{C} \setminus \{3j, -3j\}$  este punct ordinar pentru  $f : \mathbb{C} \setminus \{3j, -3j\} \rightarrow \mathbb{C}$ .
- Zerourile lui  $f$  sunt:  $j$  (de ordin 1) și  $-j$  (de ordin 1).
- $f$  are puncte singulare pe  $\mathbb{C}$  (la distanță finită) :

$a = 3j$  este punct singular; mai mult, este pol de ordin 2, deoarece:

$$\text{-se scrie } f(z) = \frac{z^2+1}{(z+3j)^2} = \frac{\varphi_1(z)}{(z-3j)^2};$$

$$\text{-se observă că } \varphi_1(z) = \frac{z^2+1}{(z+3j)^2}, \forall z \in A \cup \{3j\};$$

$$\varphi_1 \text{ este olomorfă pe o vecinătate a lui } 3j; \varphi_1(3j) = \frac{(3j)^2+1}{(3j+3j)^2} \neq 0.$$

$a = -3j$  este punct singular; mai mult, este pol de ordin 2, deoarece:

$$\text{-se scrie } f(z) = \frac{z^2+1}{(z-3j)^2} = \frac{\varphi_2(z)}{(z+3j)^2};$$

$$\text{-se observă că } \varphi_2(z) = \frac{z^2+1}{(z-3j)^2}, \forall z \in A \cup \{-3j\};$$

$$\varphi_2 \text{ este olomorfă pe o vecinătate a lui } -3j; \varphi_2(-3j) = \frac{(-3j)^2+1}{-3j-3j} \neq 0.$$

$$\text{d) } f: A \subseteq \mathbb{C} \rightarrow \mathbb{C}, f(z) = \frac{z^2+j}{z^2(z^2+16)^3}$$

**Rezolvare.**  $f$  este bine definită,  $\forall z \in \mathbb{C} \setminus \{0, 4j, -4j\} \Rightarrow A = \mathbb{C} \setminus \{0, 4j, -4j\}$ .

• Se observă că,  $\forall z_0 \in \mathbb{C} \setminus \{0, 4j, -4j\}, \exists \rho > 0$  a.i.  $f \in \mathcal{H}(\Delta(z_0; \rho)) \Rightarrow \Rightarrow \forall z_0 \in \mathbb{C} \setminus \{0, 4j, -4j\}$  este punct ordinar pentru  $f: \mathbb{C} \setminus \{0, 4j, -4j\} \rightarrow \mathbb{C}$

• Zerourile lui  $f$  sunt:  $-\frac{\sqrt{2}}{2} + j\frac{\sqrt{2}}{2}$  (de ordin 1) și  $\frac{\sqrt{2}}{2} + j\frac{-\sqrt{2}}{2}$  (de ordin 1), deoarece  $-j = 1 \left( \cos \frac{3\pi}{2} + j \sin \frac{3\pi}{2} \right) \Rightarrow$

$$\begin{aligned} (\sqrt[2]{-j})_{\mathbb{C}} &= \left\{ Z_k = \sqrt[2]{1} \left( \cos \frac{\frac{3\pi}{2} + 2k\pi}{2} + j \sin \frac{\frac{3\pi}{2} + 2k\pi}{2} \right); k \in \{0, 1\} \right\} = \\ &= \left\{ Z_0 = \sqrt[2]{1} \left( \cos \frac{3\pi}{4} + j \sin \frac{3\pi}{4} \right), Z_1 = \sqrt[2]{1} \left( \cos \frac{7\pi}{4} + j \sin \frac{7\pi}{4} \right) \right\} = \\ &= \left\{ Z_0 = -\frac{\sqrt{2}}{2} + j\frac{\sqrt{2}}{2}, Z_1 = \frac{\sqrt{2}}{2} + j\frac{-\sqrt{2}}{2} \right\} \end{aligned}$$

•  $f$  are puncte singulare pe  $\mathbb{C}$  (la distanță finită):

$a = 0$  este punct singular; mai mult, este pol de ordin 2;

$a = 4j$  este punct singular; mai mult, este pol de ordin 3;

$a = -4j$  este punct singular; mai mult, este pol de ordin 3.

**Exercițiul 2.** Să se determine punctele singulare, la distanță finită și apoi la infinit, și natura lor pentru:

$$\text{a) } f: A \subseteq \mathbb{C} \rightarrow \mathbb{C}, f(z) = 2 - z + z^3; \text{ b) } f: A \subseteq \mathbb{C} \rightarrow \mathbb{C}, f(z) = \frac{z^7 - 3z^2}{z^2 - 6z + 9}$$

**Rezolvare.** A se vedea Curs.

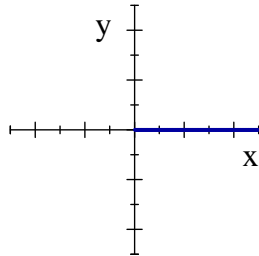
### 3.4. Funcții elementare complexe de o variabilă complexă

**Definiții și teoreme de olomorfie, exemple și "grafice" 4D (3D și culoare)** pentru funcțiile elementare polinomiale, raționale, radical complex, exponențială, logaritmică, trigonometrice și hiperbolice, inversele funcțiilor trigonometrice și hiperbolice -A se vedea Curs.

A se revedea Exercițiile 2, 3, 7, 10 din Seminar 4.

**Exercițiul 1.** Să se calculeze  $(\sqrt[5]{-2+2j})_{\mathbb{C}}$ , luând pentru multifuncția  $f(z) = (\sqrt[5]{z})_{\mathbb{C}}$  ramura care satisface  $f_k(-1) = -1$  și tăietura  $T = Ox_+$ .

**Rezolvare.** Se reprezintă tăietura



$$T = Ox_+ = \{z = x + jy \in \mathbb{C}; y = 0, x \geq 0\} \Rightarrow \text{se alege } t^* \in [0, 2\pi[.$$

Multifuncția radical de ordin 5 din  $z - 0$ ,

$$f : \mathbb{C} \rightarrow \mathcal{P}(\mathbb{C}), f(z) = (\sqrt[5]{z-0})_{\mathbb{C}}$$

este o funcție multivocă cu exact 5 ramuri, iar în ipoteza că se alege tăietura  $T = Ox_+$  și  $t^* \in [0, 2\pi[$ , aceste ramuri sunt date de

$$f_k : \mathbb{C} \setminus T \rightarrow \mathbb{C}, f_k(z) = \sqrt[5]{r} \left( \cos \frac{t^* + 2k\pi}{5} + j \sin \frac{t^* + 2k\pi}{5} \right), k \in \{0, 1, 2, 3, 4\},$$

unde  $z - 0 = r(\cos t^* + j \sin t^*) \in \mathbb{C}$ , cu  $r = |z - 0|$ ,  $t^* = \arg(z - 0) \in [0, 2\pi[$ .

etapa 1. Se determină acea ramură (acel  $k \in \{0, 1, 2, 3, 4\}$ ) pentru care  $f_k(-1) = -1$ .

$$f_k(-1 + j \cdot 0) = f_k \left( \underbrace{1(\cos \pi + j \sin \pi)}_{=-1, M \in Ox_-} \right) = \sqrt[5]{1} \left( \cos \frac{\pi + 2k\pi}{5} + j \sin \frac{\pi + 2k\pi}{5} \right), k \in \{0, 1, 2, 3, 4\} \left. \vphantom{f_k} \right\}$$

$$-1 = 1(\cos \pi + j \sin \pi)$$

$$f_k(-1) = -1 \Rightarrow \begin{cases} \sqrt[5]{1} = 1 \\ \frac{\pi + 2k\pi}{5} \stackrel{\text{periodicitate}}{=} \pi + 2p\pi, p \in \mathbb{Z} \end{cases}$$

Se alege acel  $k \in \{0, 1, 2, 3, 4\}$  a.î.

$$\frac{\pi + 2k\pi}{5} = \pi + 2p\pi, p \in \mathbb{Z} \Leftrightarrow 1 + 2k = 5 + 10p, p \in \mathbb{Z} \Leftrightarrow k = 2 + 5p, p \in \mathbb{Z}$$

$$k = 0 \Rightarrow -2 = 5p - \text{contradicție cu } p \in \mathbb{Z}$$

$$k = 1 \Rightarrow -1 = 5p - \text{contradicție cu } p \in \mathbb{Z}$$

$$k = 2 \Rightarrow 0 = 5p \Rightarrow p = 0 \in \mathbb{Z}$$

$$k = 3 \Rightarrow 1 = 5p - \text{contradicție cu } p \in \mathbb{Z}$$

$$k = 4 \Rightarrow 2 = 5p - \text{contradicție cu } p \in \mathbb{Z}$$

Deci  $k = 2 \Rightarrow$

$$f_2 : \mathbb{C} \setminus T \rightarrow \mathbb{C}, f_2(z) = \sqrt[5]{r} \left( \cos \frac{t^* + 4\pi}{5} + j \sin \frac{t^* + 4\pi}{5} \right).$$

etapa 2. Se determină  $(\sqrt[5]{-2+2j})_{k=2} = f_2(-2+2j)$ .

Pentru  $z = -2 + 2j = 2\sqrt{2} \left( \cos \frac{3\pi}{4} + j \sin \frac{3\pi}{4} \right) (M \in CII) \Rightarrow$   
 $f_2(z) = f_2(-2 + 2j) = \sqrt[5]{2\sqrt{2}} \left( \cos \frac{\frac{3\pi}{4} + 4\pi}{5} + j \sin \frac{\frac{3\pi}{4} + 4\pi}{5} \right) = \sqrt[10]{8} \left( \cos \frac{19\pi}{20} + j \sin \frac{19\pi}{20} \right).$

○ **Exercițiul 2.** Se dă "funcția" multivocă  $f : \mathbb{C} \rightarrow \mathcal{P}(\mathbb{C})$ ,  $f(z) = \left( \sqrt[2]{z^2 + 1} \right)_{\mathbb{C}}$ .

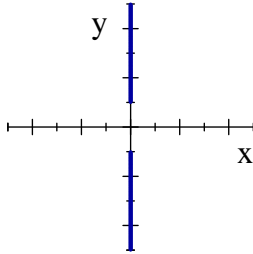
Să se scrie ramurile funcției când tăietura este:

a)  $T = T_1 \cup T_2, T_1 = \{z = x + jy \in \mathbb{C}; x = 0, y \geq 1\}, T_2 = \{z = x + jy \in \mathbb{C}; x = 0, y \leq -1\}.$

b)  $T_3 = \{z = x + jy \in \mathbb{C}; x = 0, y \geq -1\}.$

**Rezolvare.** Se scrie  $f(z) = \left( \sqrt[2]{z-j} \right)_{\mathbb{C}} \cdot \left( \sqrt[2]{z+j} \right)_{\mathbb{C}}$

a) Se reprezintă tăietura.



Pentru  $z \in \mathbb{C}$  a.î.  $z - j \in \mathbb{C} \setminus T_1$  și  $z + j \in \mathbb{C} \setminus T_2$  se scrie

$$z - j = r_1 (\cos t_1^* + j \sin t_1^*) \in \mathbb{C}, \text{ cu } r_1 = |z - j|, t_1^* = \arg(z - j).$$

$$z + j = r_2 (\cos t_2^* + j \sin t_2^*) \in \mathbb{C}, \text{ cu } r_2 = |z + j|, t_2^* = \arg(z + j).$$

De precizat că

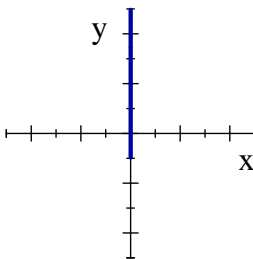
$$\text{-atunci când } z - j \in \mathbb{C} \setminus T_1 \Rightarrow t_1^* \in \left[ -\frac{3\pi}{2}, \frac{\pi}{2} \right[$$

$$\text{-atunci când } z + j \in \mathbb{C} \setminus T_2 \Rightarrow t_2^* \in \left[ -\frac{\pi}{2}, \frac{3\pi}{2} \right[$$

Atunci ramurile uniforme pentru  $f$  sunt

$$\begin{aligned} f_k : \mathbb{C} \setminus T &\rightarrow \mathbb{C}, f_k(z) = \\ &= \sqrt{r_1} \left( \cos \frac{t_1^* + 2k_1\pi}{2} + j \sin \frac{t_1^* + 2k_1\pi}{2} \right) \cdot \sqrt{r_2} \left( \cos \frac{t_2^* + 2k_2\pi}{2} + j \sin \frac{t_2^* + 2k_2\pi}{2} \right) = \\ &= \sqrt{r_1 \cdot r_2} \left( \cos \frac{(t_1^* + t_2^*) + 2(k_1 + k_2)\pi}{2} + j \sin \frac{(t_1^* + t_2^*) + 2(k_1 + k_2)\pi}{2} \right), k \in \{0, 1\}. \end{aligned}$$

b) Se reprezintă tăietura.



Pentru  $z \in \mathbb{C}$  a.î.  $z - j \in \mathbb{C} \setminus T_3$  și  $z + j \in \mathbb{C} \setminus T_3$  se scrie

$$z - j = r_1 (\cos t_1^* + j \sin t_1^*) \in \mathbb{C}, \text{ cu } r_1 = |z - j|, t_1^* = \arg(z - j).$$

$$z + j = r_2 (\cos t_2^* + j \sin t_2^*) \in \mathbb{C}, \text{ cu } r_2 = |z + j|, t_2^* = \arg(z + j).$$

De precizat că

$$\text{-atunci când } z - j \in \mathbb{C} \setminus T_3 \Rightarrow t_1^* \in \left[ -\frac{3\pi}{2}, \frac{\pi}{2} \right[$$

-atunci când  $z + j \in \mathbb{C} \setminus T_3 \Rightarrow t_2^* \in \left[-\frac{3\pi}{2}, \frac{\pi}{2}\right[$ .

Atunci ramurile uniforme pentru  $f$  sunt

$$\begin{aligned} f_k : \mathbb{C} \setminus T &\rightarrow \mathbb{C}, f_k(z) = \\ &= \sqrt{r_1} \left( \cos \frac{t_1^* + 2k_1\pi}{2} + j \sin \frac{t_1^* + 2k_1\pi}{2} \right) \cdot \sqrt{r_2} \left( \cos \frac{t_2^* + 2k_2\pi}{2} + j \sin \frac{t_2^* + 2k_2\pi}{2} \right) = \\ &= \sqrt{r_1 \cdot r_2} \left( \cos \frac{(t_1^* + t_2^*) + 2(k_1 + k_2)\pi}{2} + j \sin \frac{(t_1^* + t_2^*) + 2(k_1 + k_2)\pi}{2} \right), k \in \{0, 1\}. \end{aligned}$$

○**Exercițiul 3.** Se dă "funcția" multivocă  $f : \mathbb{C} \rightarrow \mathcal{P}(\mathbb{C}), f(z) = \frac{z^4 + 3}{(z^2 + 1)(\sqrt[3]{z})_{\mathbb{C}}}$ .

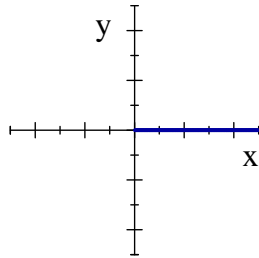
a) Să se scrie ramurile funcției când tăietura este  $T = Ox_+ = \{z = x + jy \in \mathbb{C}; y = 0, x \geq 0\}$ .

b) Să se determine ramura pentru care  $f_k(-1) = -2$ ;

c) Pe ramura determinată la b), să se calculeze  $f(2j), f(-2j)$ .

**Rezolvare.** Se scrie  $f(z) = \frac{z^4 + 3}{(z^2 + 1)(\sqrt[3]{z-0})_{\mathbb{C}}}$ ;

a) Se reprezintă tăietura



$T = Ox_+ = \{z = x + jy \in \mathbb{C}; y = 0, x \geq 0\} \Rightarrow$  se alege  $t^* \in [0, 2\pi[$

Multifuncția radical de ordin 3 din  $z - 0$ ,

$$g : \mathbb{C} \rightarrow \mathcal{P}(\mathbb{C}), g(z) = (\sqrt[3]{z-0})_{\mathbb{C}}$$

este o funcție multivocă cu exact 3 ramuri, în ipoteza că se alege tăietura  $T$ , date de

$$g_k : \mathbb{C} \setminus T \rightarrow \mathbb{C}, g_k(z) = \sqrt[3]{r} \left( \cos \frac{t^* + 2k\pi}{3} + j \sin \frac{t^* + 2k\pi}{3} \right), k \in \{0, 1, 2\},$$

unde  $z = r(\cos t^* + j \sin t^*) \in \mathbb{C} \setminus T$ , cu  $r = |z|, t^* = \arg z$ .

Atunci  $f$  este o funcție multivocă cu 3 ramuri

$$f_k : \mathbb{C} \setminus (T \cup \{0, -j, j\}) \rightarrow \mathbb{C},$$

$$f_k(z) = \frac{z^4 + 3}{(z^2 + 1) \sqrt[3]{r} \left( \cos \frac{t^* + 2k\pi}{3} + j \sin \frac{t^* + 2k\pi}{3} \right)}, k \in \{0, 1, 2\}$$

unde  $z = r(\cos t^* + j \sin t^*) \in \mathbb{C} \setminus (T \cup \{0, -j, j\})$ , cu  $r = |z|, t^* = \arg z$ .

Se alege acea ramură (se alege acel  $k$ ) pentru care  $f_k(-1) = -2$ .

$$\left. \begin{aligned} f_k(-1) &= f_k \left( \underbrace{1(\cos \pi + j \sin \pi)}_{=-1} \right) = \\ &= \frac{(-1)^4 + 3}{\left( (-1)^2 + 1 \right) \sqrt[3]{1} \left( \cos \frac{\pi + 2k\pi}{3} + j \sin \frac{\pi + 2k\pi}{3} \right)} = \\ &= 2 \left( \cos \left( -\frac{\pi + 2k\pi}{3} \right) + j \sin \left( -\frac{\pi + 2k\pi}{3} \right) \right), k \in \{0, 1, 2\} \\ -2 &= 2(\cos \pi + j \sin \pi) \end{aligned} \right\}$$

$\Rightarrow$  se alege acel  $k \in \{0, 1, 2\}$  a.î.

$$-\frac{\pi + 2k\pi}{3} = \pi + 2p\pi, p \in \mathbb{Z} \Leftrightarrow -1 - 2k = 3 + 6p, p \in \mathbb{Z} \Leftrightarrow k = -2 - 3p, p \in \mathbb{Z}$$

$$k = 0 \Rightarrow 2 = -3p - \text{contradicție cu } p \in \mathbb{Z}$$

$$k = 1 \Rightarrow 3 = -3p \Rightarrow p = -1 \in \mathbb{Z}$$

$$k = 2 \Rightarrow 4 = -3p - \text{contradicție cu } p \in \mathbb{Z}$$

Deci  $k = 1$ . Deci ramura pentru care  $f_k(-1) = -2$  este

$$f_1 : \mathbb{C} \setminus (T \cup \{0, -j, j\}) \rightarrow \mathbb{C}, f_1(z) = \frac{z^4 + 3}{(z^2 + 1) \sqrt[3]{r} \left( \cos \frac{t^* + 2\pi}{3} + j \sin \frac{t^* + 2\pi}{3} \right)},$$

unde  $z = r(\cos t^* + j \sin t^*) \in \mathbb{C} \setminus (T \cup \{0, -j, j\})$ , cu  $t^* = \arg z, r = |z|$ .

c) Pentru

$$\bullet z = 2j = 2 \left( \cos \frac{\pi}{2} + j \sin \frac{\pi}{2} \right) (M \in Oy_+) \Rightarrow$$

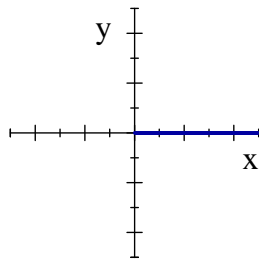
$$\begin{aligned} f_1(z) = f_1(2j) &= \frac{(2j)^4 + 3}{\left( (2j)^2 + 1 \right) \sqrt[3]{2} \left( \cos \frac{\frac{\pi}{2} + 2\pi}{3} + j \sin \frac{\frac{\pi}{2} + 2\pi}{3} \right)} = \\ &= \frac{16 + 3}{(-4 + 1) \sqrt[3]{2} \left( \cos \frac{5\pi}{6} + j \sin \frac{5\pi}{6} \right)} = \frac{19}{-3\sqrt[3]{2}} \left( \cos \left( -\frac{5\pi}{6} \right) + j \sin \left( -\frac{5\pi}{6} \right) \right) = \\ &= \frac{19}{3\sqrt[3]{2}} (\cos \pi + j \sin \pi) \left( \cos \left( -\frac{5\pi}{6} \right) + j \sin \left( -\frac{5\pi}{6} \right) \right) \\ &= \frac{19}{3\sqrt[3]{2}} \left( \cos \frac{\pi}{6} + j \sin \frac{\pi}{6} \right) = \frac{19}{3\sqrt[3]{2}} \left( \frac{\sqrt{3}}{2} + j \frac{1}{2} \right). \end{aligned}$$

$$\bullet z = -2j = 2 \left( \cos \frac{3\pi}{2} + j \sin \frac{3\pi}{2} \right) (M \in Oy_-) \Rightarrow$$

$$\begin{aligned} f_1(z) = f_1(-2j) &= \frac{(-2j)^4 + 3}{\left( (-2j)^2 + 1 \right) \sqrt[3]{2} \left( \cos \frac{\frac{3\pi}{2} + 2\pi}{3} + j \sin \frac{\frac{3\pi}{2} + 2\pi}{3} \right)} = \\ &= \frac{16 + 3}{(-4 + 1) \sqrt[3]{2} \left( \cos \frac{7\pi}{6} + j \sin \frac{7\pi}{6} \right)} = \frac{19}{-3\sqrt[3]{2}} \left( \cos \left( -\frac{7\pi}{6} \right) + j \sin \left( -\frac{7\pi}{6} \right) \right) = \\ &= \frac{19}{3\sqrt[3]{2}} (\cos \pi + j \sin \pi) \left( \cos \left( -\frac{7\pi}{6} \right) + j \sin \left( -\frac{7\pi}{6} \right) \right) = \frac{19}{3\sqrt[3]{2}} \left( \cos \left( -\frac{\pi}{6} \right) + j \sin \left( -\frac{\pi}{6} \right) \right) = \\ &= \frac{19}{3\sqrt[3]{2}} \left( \cos \left( \frac{11\pi}{6} \right) + j \sin \left( \frac{11\pi}{6} \right) \right). \end{aligned}$$

**Exercițiul 4.** Să se calculeze  $(\text{Log}(1+j))_{\mathbb{C}}$ , luând pentru multifuncția  $f(z) = (\text{Log } z)_{\mathbb{C}}$  ramura care satisface  $f_k(-3) = \ln 3 + 7\pi j$  și tăietura  $T = Ox_+$ .

**Rezolvare.** Se reprezintă tăietura



$T = Ox_+ = \{z = x + jy \in \mathbb{C}; y = 0, x \geq 0\} \Rightarrow$  se alege  $t^* \in [0, 2\pi[$ .

Multifuncția logaritm în planul complex,

$$f : \mathbb{C} \rightarrow \mathcal{P}(\mathbb{C}), f(z) = (\text{Log } z)_{\mathbb{C}}$$

este o funcție multivocă cu  $k \in \mathbb{Z}$  ramuri, iar în ipoteza că se alege tăietura  $T = Ox_+$  și  $t^* \in [0, 2\pi[$ , aceste ramuri sunt date de

$$f_k : \mathbb{C} \setminus T \rightarrow \mathbb{C}, f_k(z) = \ln|z| + j(t^* + 2k\pi); k \in \mathbb{Z},$$

unde  $z = r(\cos t^* + j \sin t^*) \in \mathbb{C}$ , cu  $r = |z|, t^* = \arg z$ .

etapa 1. Se determină acea ramură (acel  $k \in \mathbb{Z}$ ) pentru care  $f_k(-3) = \ln 3 + 7\pi j$ .

$$f_k(-3) = f_k \left( \underbrace{3(\cos \pi + j \sin \pi)}_{=-3} \right) = \ln 3 + j(\pi + 2k\pi); k \in \mathbb{Z} \left. \vphantom{f_k(-3)} \right\}$$

$$f_k(-3) = \ln 3 + 7\pi j$$

$$f_k(-3) = \ln 3 + 7\pi j \Rightarrow \begin{cases} \ln 3 = \ln 3 \\ \pi + 2k\pi = 7\pi. \end{cases}$$

$\Rightarrow$  se alege acel  $k \in \mathbb{Z}$  a.î.  $\pi + 2k\pi = 7\pi \Leftrightarrow 1 + 2k = 5 + 10p \Rightarrow k = 3$ .

Deci  $k = 3 \Rightarrow$

$$f_3 : \mathbb{C} \setminus T \rightarrow \mathbb{C}, f_3(z) = \ln|z| + j(t^* + 6\pi)$$

etapa 2. Se determină  $(\text{Log}(1+j))_{k=3} = f_3(1+j)$ .

Pentru  $z = 1 + j = \sqrt{2}(\cos \frac{\pi}{4} + j \sin \frac{\pi}{4})$  ( $M \in CI$ )  $\Rightarrow$

$$f_3(z) = f_3(1+j) = \ln \sqrt{2} + j \left( \frac{\pi}{4} + 6\pi \right).$$

○ **Exercițiul 5.** Se consideră "funcția" multivocă

$$f : \mathbb{C}^* \rightarrow \mathcal{P}(\mathbb{C}), f(z) = \frac{1}{z} (\text{Log } z)_{\mathbb{C}}.$$

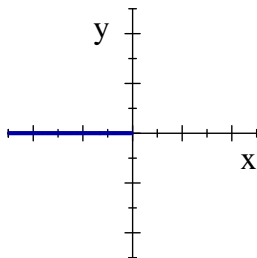
a) Să se dea un procedeu de uniformizare folosind tăietura

$$T = Ox_- = \{z = x + jy \in \mathbb{C}; x \leq 0, y = 0\}.$$

b) Să se determine ramura care ia valori reale pentru  $z = x > 0$ .

**Rezolvare.** a) Fie  $z = r(\cos t^* + j \sin t^*) = re^{jt^*} \in \mathbb{C}$ , cu  $r = |z|, t^* = \arg z$ .

În calculul lui  $f_k(z)$ ,  $t^*$  se alege într-un interval de lungime  $2\pi$  de forma  $[\alpha, \alpha + 2\pi[$ , măsurat în sens direct și fără a trece peste tăietură.



$T = Ox_- = \{z = x + jy \in \mathbb{C}; x \leq 0, y = 0\} \Rightarrow$  se alege  $t^* \in [-\pi, \pi[$ .

Multifuncția logaritm în planul complex,

$$g : \mathbb{C} \rightarrow \mathcal{P}(\mathbb{C}), g(z) = (\text{Log } z)_{\mathbb{C}}$$

este o funcție multivocă cu  $k \in \mathbb{Z}$  ramuri date, în ipoteza că se alege tăietura  $T$ , de

$$g_k : \mathbb{C} \setminus T \rightarrow \mathbb{C}, g_k(z) = \ln r + j(t^* + 2k\pi); k \in \mathbb{Z},$$

unde  $z = r(\cos t^* + j \sin t^*) \in \mathbb{C}$ , cu  $r = |z|, t^* = \arg z$ .

Atunci ramurile "funcției"  $f$  sunt

$$f_k : \mathbb{C}^* \setminus T \rightarrow \mathbb{C}, f_k(z) = \frac{1}{z} (\ln r + j(t^* + 2k\pi)); k \in \mathbb{Z}.$$

b) Se determină acea ramură (acel  $k$ ) pentru care

$f_k(z) \in \mathbb{R}$  pentru  $z = x > 0$ .

$$f_k(x + 0 \cdot j) = f_k \left( \underbrace{x(\cos 0 + j \sin 0)}_{=x} \right) = \frac{1}{x} (\ln x + j(0 + 2k\pi)); k \in \mathbb{Z} \left. \vphantom{f_k} \right\}$$

$$f_k(x) \in \mathbb{R}$$

$\Rightarrow$  se alege acel  $k \in \mathbb{Z}$  a.î.  $0 + 2k\pi = 0 \Leftrightarrow k = 0$ .

Deci ramura pentru care  $f_k(z) \in \mathbb{R}$  pentru  $z = x > 0$  este

$$f_0 : \mathbb{C}^* \setminus T \rightarrow \mathbb{C}, f_0(z) = \ln r + j t^*.$$

**Exercițiul 6.** Să se calculeze

$$E = \operatorname{sh}(2j) + \cos(1 - j) + \operatorname{tg}(1 - 2j) + \left( \operatorname{Log} \frac{1 - j}{\sqrt{3} + j} \right)_{k=0} + \left( (1 + j\sqrt{3})^j \right)_{k=0} + e^{(\sqrt{j})_{k=0}}$$

unde, pentru funcțiile multivoce, se consideră ramura principală,  $k = 0$ , și tăietura  $T = Ox_+$ .

**Rezolvare.** Se calculează separat:

- $\operatorname{sh}(2j) = \frac{e^{2j} - e^{-2j}}{2} = \frac{1}{2} ((\cos 2 + j \sin 2) - (\cos(-2) + j \sin(-2))) = j \sin 2$

sau, direct,  $\operatorname{sh}(2j) = j \sin 2$ ;

- $\cos(1 - j) = \frac{e^{j(1-j)} + e^{-j(1-j)}}{2} = \frac{e^{1+j} + e^{-1-j}}{2} =$

$$= \frac{1}{2} (e(\cos 1 + j \sin 1) + e^{-1}(\cos(-1) + j \sin(-1))) =$$

$$= (\cos 1) \frac{e + e^{-1}}{2} + j(\sin 1) \frac{e - e^{-1}}{2} = \cos 1 \operatorname{ch} 1 + j \sin 1 \operatorname{sh} 1$$

sau, direct,  $\cos(1 - j) = \cos 1 \cos j + \sin 1 \sin j = \cos 1 \operatorname{ch} 1 + j \sin 1 \operatorname{sh} 1$ ;

- $\operatorname{tg}(1 - 2j) = \frac{\sin(1 - 2j)}{\cos(1 - 2j)} = \frac{\sin 1 \cos(-2j) + \cos 1 \sin(-2j)}{\cos 1 \cos(-2j) - \sin 1 \sin(-2j)} = \frac{\sin 1 \operatorname{ch} 2 - \cos 1 \operatorname{sh} 2}{\cos 1 \operatorname{ch} 2 + \sin 1 \operatorname{sh} 2}$ ;

- Se alege tăietura  $T = Ox_+ = \{z = x + jy \in \mathbb{C}; x \geq 0, y = 0\}$  și atunci  $t^* \in [0, 2\pi[ \Rightarrow$

- Deoarece  $\frac{1 - j}{\sqrt{3} + j} = \frac{\sqrt{2}(\cos \frac{7\pi}{4} + j \cos \frac{7\pi}{4})}{2(\cos \frac{\pi}{6} + j \sin \frac{\pi}{6})} = \frac{\sqrt{2}}{2} (\cos(\frac{7\pi}{4} - \frac{\pi}{6}) + j \sin(\frac{7\pi}{4} - \frac{\pi}{6})) =$

$$= \frac{\sqrt{2}}{2} (\cos \frac{19\pi}{12} + j \sin \frac{19\pi}{12}) \Rightarrow$$

$$\left( \operatorname{Log} \frac{1 - j}{\sqrt{3} + j} \right)_{k=0} = \ln \frac{\sqrt{2}}{2} + j \left( \frac{19\pi}{12} + 2 \cdot 0 \cdot \pi \right)$$

- Deoarece  $1 + j\sqrt{3} = \frac{1}{2} (\cos \frac{\pi}{3} + j \sin \frac{\pi}{3}) \Rightarrow$

$$\left( (1 + j\sqrt{3})^j \right)_{k=0} = e^{j(\operatorname{Log}(1 + j\sqrt{3}))_{k=0}} = e^{j(\ln \frac{1}{2} + j(\frac{\pi}{3} + 2 \cdot 0 \cdot \pi))} = e^{-\frac{\pi}{3} + j \ln 2} = e^{-\frac{\pi}{3}} (\cos(\ln 2) + j \sin(\ln 2))$$

- Deoarece  $j = 1 (\cos \frac{\pi}{2} + j \sin \frac{\pi}{2}) \Rightarrow$

$$(\sqrt{j})_{k=0} = \sqrt{1} \left( \cos \frac{\frac{\pi}{2} + 2 \cdot 0 \cdot \pi}{2} + j \sin \frac{\frac{\pi}{2} + 2 \cdot 0 \cdot \pi}{2} \right) = \cos \frac{\pi}{4} + j \sin \frac{\pi}{4}.$$

$$e^{(\sqrt{j})_{k=0}} = e^{\frac{\sqrt{2}}{2} + j \frac{\sqrt{2}}{2}} = e^{\frac{\sqrt{2}}{2}} \left( \cos \frac{\sqrt{2}}{2} + j \sin \frac{\sqrt{2}}{2} \right).$$

Atunci

$$E = j \sin 2 + \cos 1 \operatorname{sh} 1 + j \sin 1 \operatorname{ch} 1 + \frac{\sin 1 \operatorname{ch} 2 - \cos 1 \operatorname{sh} 2}{\cos 1 \operatorname{ch} 2 + \sin 1 \operatorname{sh} 2} +$$

$$+ \ln \frac{\sqrt{2}}{2} + j \frac{19\pi}{12} + e^{-\frac{\pi}{3}} (\cos(\ln 2) + j \sin(\ln 2)) + e^{\frac{\sqrt{2}}{2}} \left( \cos \frac{\sqrt{2}}{2} + j \sin \frac{\sqrt{2}}{2} \right).$$

**Exercițiul 8.** Să se rezolve în  $\mathbb{C}$  ecuația  $\operatorname{th} z = 2$ .

**Rezolvare.** Se caută  $z \in \mathbb{C}$  a.î.



$$\begin{aligned} & \begin{cases} \frac{\operatorname{sh} z}{\operatorname{ch} z} = 2 \\ z \neq \left(\pm \frac{\pi}{2} + 2\tilde{k}\pi\right)j, \tilde{k} \in \mathbb{Z} \end{cases} \Leftrightarrow \begin{cases} \frac{e^z - e^{-z}}{e^z + e^{-z}} = 2 \\ z \neq \left(\pm \frac{\pi}{2} + 2\tilde{k}\pi\right)j, \tilde{k} \in \mathbb{Z} \end{cases} \Leftrightarrow \begin{cases} e^z + 3e^{-z} = 0 \\ z \neq \left(\pm \frac{\pi}{2} + 2\tilde{k}\pi\right)j, \tilde{k} \in \mathbb{Z} \end{cases} \\ & \Leftrightarrow \begin{cases} e^{2z} = -3 \\ z \neq \left(\pm \frac{\pi}{2} + 2\tilde{k}\pi\right)j, \tilde{k} \in \mathbb{Z} \end{cases} \Leftrightarrow \begin{cases} 2z \in (\operatorname{Log}(-3))_{\mathbb{C}} \\ z \neq \left(\pm \frac{\pi}{2} + 2\tilde{k}\pi\right)j, \tilde{k} \in \mathbb{Z} \end{cases} \end{aligned}$$

În calculul lui  $(\operatorname{Log} z)_{\mathbb{C}}$ ,  $t^*$  se alege într-un interval de lungime  $2\pi$  de forma  $[\alpha, \alpha + 2\pi[$ , măsurat în sens direct și fără a trece peste tăietură. Se alege tăietura

$$T = Ox_+ = \{z = x + jy \in \mathbb{C}; x \geq 0, y = 0\},$$

și atunci  $t^* \in [0, 2\pi[ \Rightarrow -3 = 3(\cos \pi + j \sin \pi)$ .

Atunci soluțiile ecuației sunt

$$\begin{cases} z \in \frac{1}{2}(\operatorname{Log}(-3))_{\mathbb{C}} = \left\{\frac{1}{2}(\ln 3 + j(\pi + 2k\pi))\right\}, k \in \mathbb{Z} \\ z \neq \left(\pm \frac{\pi}{2} + 2\tilde{k}\pi\right)j, \tilde{k} \in \mathbb{Z} \end{cases}$$